


### Das Quadrat



Das Quadrat hat

\_\_\_\_\_ Ecken und  
\_\_\_\_\_ Seiten.

Alle Seiten sind \_\_\_\_\_ lang.

Das Quadrat hat 4 \_\_\_\_\_

Winkel.

### Das Rechteck



Das Rechteck hat

\_\_\_\_\_ Ecken und  
\_\_\_\_\_ Seiten.

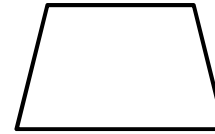
Immer \_\_\_\_\_ gegenüberliegende

Seiten sind \_\_\_\_\_ lang.

Das Rechteck hat 4 rechte

\_\_\_\_\_.

### Das Trapez



Das Trapez hat

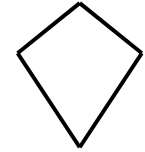
\_\_\_\_\_ Ecken und  
\_\_\_\_\_ Seiten.

Zwei gegenüberliegende Seiten sind

\_\_\_\_\_ zueinander, die anderen

beiden Seiten sind es nicht.

### Der Drachen



Der Drachen hat

\_\_\_\_\_ Ecken und  
\_\_\_\_\_ Seiten.

Die benachbarten Seiten sind \_\_\_\_\_

lang. Er hat keine \_\_\_\_\_ Seiten

und auch \_\_\_\_\_ rechte Winkel.

### Das Parallelogramm



Das Parallelogramm hat

\_\_\_\_\_ Ecken und  
\_\_\_\_\_ Seiten.

Die \_\_\_\_\_

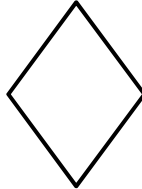
Seiten sind gleich lang. Die

gegenüberliegenden Seiten sind

\_\_\_\_\_ zueinander, daher hat das

Parallelogramm den Namen.

### Die Raute



Die Raute hat

\_\_\_\_\_ Ecken und  
\_\_\_\_\_ Seiten.

Alle Seiten sind \_\_\_\_\_ lang.

Die Raute hat \_\_\_\_\_ rechte

Winkel.

### Quizfragen:

Was ist bei allen Vierecken gleich?

\_\_\_\_\_  
\_\_\_\_\_

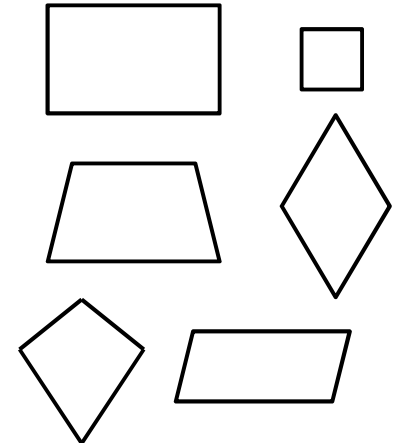
Welche Vierecke haben rechte Winkel?

\_\_\_\_\_  
\_\_\_\_\_

Welche Vierecke haben parallele Seiten?

\_\_\_\_\_  
\_\_\_\_\_

### Wir entdecken Vierecke



Dieses Heft gehört:

\_\_\_\_\_

