
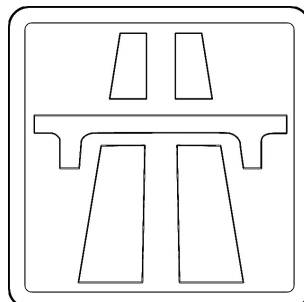
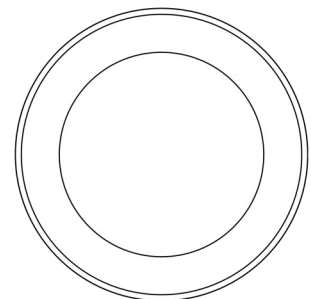
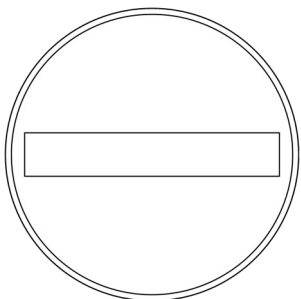





## Wo darf ein Fahrrad fahren und wo nicht?

- 1) Male die Verkehrszeichen richtig an.
- 2) Schneide die Zeichen und Texte aus und ordne richtig zu.
- 3) Sortiere nach „Hier darf ich fahren“ und „Hier darf ich nicht fahren“
- 4) Klebe Texte und Bilder nebeneinander unter die Überschriften in dein Heft.

Tipp: Nutze dein Heft zur Radfahrausbildung!



### Radweg

Ist ein Radweg vorhanden muss ich ihn benutzen.

### Getrennter Rad- und Gehweg

Radfahrer und Fußgänger benutzen eigene Spuren nebeneinander

### Spielstraße

Im verkehrsberuhigten Bereich dürfen alle Verkehrsteilnehmer nur Schrittgeschwindigkeit fahren.

### Gemeinsamer Rad- und Gehweg

Radfahrer und Fußgänger benutzen den gleichen Weg, Radfahrer müssen besonders rücksichtsvoll sein.

### Gehweg

Dieser Weg ist nur für Fußgänger.  
Ausnahme: Kinder dürfen bis zum 10. Lebensjahr Rad fahren.

### Fahrradstraße

Hier dürfen nur Radfahrer fahren und es darf nebeneinander gefahren werden.

### Verbot für alle Fahrzeuge

Hier darf kein Fahrzeug fahren.

### Fußgängerzone

Hier ist das Radfahren verboten. Du musst dein Rad schieben.

### Autobahn

Hier dürfen keine Fahrräder fahren.  
Lebensgefahr!

### Verbot für Radfahrer

Hier dürfen keine Fahrräder fahren.

### Bundesstraße

Hier dürfen keine Fahrräder fahren.  
Lebensgefahr!

### Einfahrt verboten

Achtung Einbahnstraße, in diese Richtung darfst du nicht in die Straße fahren.